

## ◇関数とは何か◇

集合  $A$  の要素に集合  $B$  の要素を対応させる規則が与えられているとき、この対応の規則を  $A$  から  $B$  への写像という。

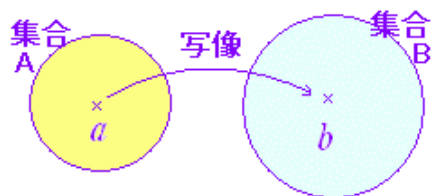
写像においては、 $a \in A$  が定まれば  $b \in B$  が定まることが重要である。

写像のうち、数に関する集合から数に関する集合への対応を関数という。(\*)

変数  $x$  の値を定めれば、変数  $y$  の値が定まるとき、 $x$  を独立変数といい  $y$  を従属変数という。

※ 関数として、中学校、高等学校では式で書かれるものを扱ったが、自然現象や社会現象を研究する上ではもっと広く、一方を定めれば他方が定まるものとする。その決定のメカニズムは必ずしも数式で表現できるものばかりではない。

※ 「数に関する集合」の要素には、 $1, 2, 3 \dots$  のような数だけでなく、座標平面上の点  $(x, y)$  や空間における点  $(x, y, z)$  なども含まれ、関数としては一般に  $R^n, C^n$  から  $R^n, C^n$  への対応を考える。



[記号]  $a$  が集合  $A$  の要素であることを、 $a \in A$  で表わす。

[記号] 実数全体の集合を  $R$  で表わし、2次元の実数の集合を  $R^2$  で表わす。

このとき、点  $(3, -4)$  は  $R^2$  の要素となっている。すなわち、 $(3, -4) \in R^2$

同様に、点  $(-1, 2, 3) \in R^3$

(\*) 「都道府県」から「都道府県庁所在地」への対応のように数でないものと数でないものの対応は、関数ではない写像である。

例 愛知県 → 名古屋市

「気温」から「天気」への対応のように、気温を定めても天気が定まらないような対応は、関数でもなく写像でもない。

例  $15^\circ\text{C}$  → 雨?, 晴れ?, 曇り?

### (1) $R$ から $R$ への関数の例

- サイコロを何回も振るとき、第  $x$  回に出る目を  $y$  とするとき、 $x$  から  $y$  への対応
- 円周率  $\pi$  において小数第  $x$  位の数を  $y$  とするとき、 $x$  から  $y$  への対応
- 素数を小さい方から順に並べたとき、第  $x$  番目の数を  $y$  とするとき、 $x$  から  $y$  への対応
- 日時  $t$  から、その時点における円/ドル為替レート  $r$  への対応

### (2) $R$ から $R^3$ への関数の例

- ある人について、日時  $t$  からその人のいる座標 ( $x$ : 東経,  $y$ : 北緯,  $z$ : 標高) への対応

### (3) $R^2$ から $R$ への関数の例

- ある時点で ( $x$ : 東経,  $y$ : 北緯) からその地点を中心とする半径 500m 以内にいる人の数への対応

### (4) $R^4$ から $R^5$ への関数の例

- 地球の気候に関して、( $x$ : 東経,  $y$ : 北緯,  $z$ : 標高,  $t$ : 日時) から ( $T$ : 気温,  $P$ : 気圧,  $v_x$ : 風速東向き成分,  $v_y$ : 風速北向き成分,  $v_z$ : 風速上向き成分) への対応

## 問

左の例以外で、対応関係の数式が必ずしも明らかでない関数の例を、 $R \rightarrow R$ ,  $R \rightarrow R^3$  について 1 つずつ述べよ。

## 2. 対応規則が既知の数式で表せるもの

### (1) 比例

- $y = ax$  ( $a$ : 単価,  $x$ : 個数,  $y$ : 価格)  
通常の買い物では、価格は個数に比例している。

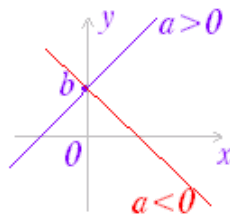
### (2) 1 次関数

- $y = ax + b$

(携帯電話について、 $a$ : 1 分当り使用料,  $x$ : 1 か月間の利用時間 (分),  $b$ : 基本料金,  $y$ : 1 か月間の料金)

※ 1 次関数のグラフは直線になる。

$y = ax + b$  において、 $a$  は傾きを表わし、 $a > 0$  ならば右上がりのグラフになり、 $a < 0$  ならば右下がりのグラフになる。 $b$  は切片を表わす。



### (3) 2 次関数

- $y = ax^2$  (中学校で習う)

$a > 0$  ならば下に凸のグラフになり、 $a < 0$  ならば上に凸のグラフになる。

- $y = a(x - p)^2 + q$  (高校で習う)

は  $y = ax^2$  を  $x$  軸の正の向きに  $p$ ,  $y$  軸の正の向きに  $q$  だけ平行移動したもので、頂点の座標は  $(p, q)$  になる。

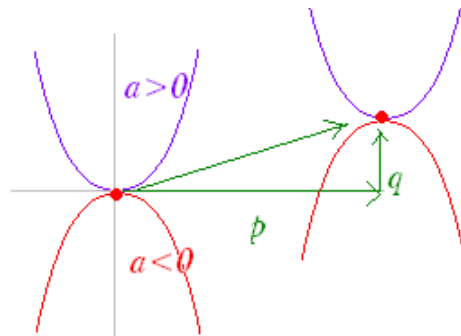
・ 一般の2次関数  $y = ax^2 + bx + c$  と2次関数の標準形  $y = a(x-p)^2 + q$  は、お互いに他方に変形できる。

- ・ 2次関数  $y = a(x-p)^2 + q$  は、  
 $a > 0$  のとき  $x=p$  において最小値  $q$  をとる。  
 $a < 0$  のとき  $x=p$  において最大値  $q$  をとる。

※ 自然現象や社会現象において人間が最も関心を持っている最大値や最小値が存在するところが、2次関数の特徴。

※ 1次関数や2次関数は、中学校、高校で習ったものであるが、微分や微分方程式において微小区間における近似式を考えると、ほとんどの問題がこれらで解決でき、基本的な関数となっている。

※ 2次関数のグラフは、下に凸（谷形）または上に凸（山形）の放物線になる。



（2次関数の例）

A版の用紙において、横（ここでは短い方の辺とする）の長さを  $x$  とすると、縦の長さ  $y$  は  $y = \sqrt{2}x$ 、面積  $S$  は  $S = xy = \sqrt{2}x^2$  となるから、面積  $S$  は横の長さ  $x$  の2次関数で表せる。

## ◇写像，関数と対応◇

【記号と用語】

以下においては、集合  $A$  の要素に対して、集合  $B$  の要素が2つ以上対応しているようなもの（多価関数という）は考えず、集合  $A$  の要素に対して、集合  $B$  の要素が1つ対応する場合のみを扱う。

○ 集合  $A$  の任意の要素  $a$  に対して、集合  $B$  の要素  $b$  が「ただ一つ定まる」（存在かつ一意）とき、この対応を写像という。

○ 集合  $A$  から集合  $B$  への写像  $f$  は

$$f: A \rightarrow B$$

などと書かれる。

○ 写像  $f: A \rightarrow B$  において、 $A$  の要素  $a$  に  $B$  の要素  $b$  が対応しているとき、 $b$  を像といい、 $a$  を原像という。

○ 写像  $f: A \rightarrow B$  において、 $A$  を定義域という。変数  $x$  が

集合  $A$  のすべての値をとって変化するとき、集合  $B$  のうち像となる値の全体を **値域** という。

○ 写像  $f: A \rightarrow B$  において、値域が集合  $B$  の全体となっているものを  $B$  の **上への写像** という。(全射ともいう。)

上への写像となるための必要十分条件は、

「  $B$  の任意の要素  $b$  に対して、 $f(a)=b$  となる  $A$  の要素  $a$  が定まる 」ことである。

○ 写像  $f: A \rightarrow B$  において、 $A$  の異なる要素には  $B$  の異なる要素が対応するものを **1対1の写像** という。(単射ともいう。)

1対1の写像となるための必要十分条件は、

「 $x_1 \neq x_2$  ならば  $f(x_1) \neq f(x_2)$ 」

あるいは、その対偶をとって、

「 $f(x_1)=f(x_2)$  ならば  $x_1=x_2$ 」

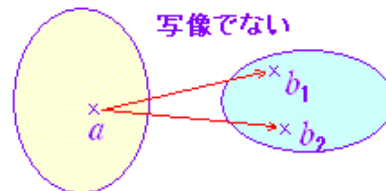
と表せる。

○ 上への写像であって、かつ、1対1の写像となっているものを **上への1対1の写像** という。(全単射ともいう。)

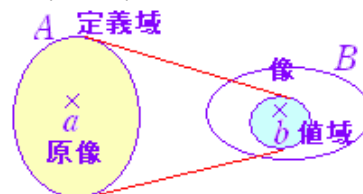
上への1対1の写像となるための必要十分条件は、

「  $B$  の任意の要素  $b$  に対して、 $f(a)=b$  となる  $A$  の要素  $a$  が **ただ1つ** 定まる 」ことである。

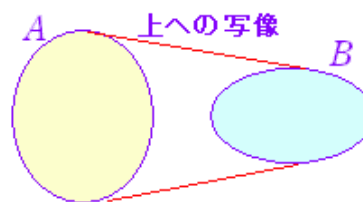
■ ここでは多価関数などは考えていない。



■ 定義域、値域、原像、像



■ 上への写像



■ 1対1の写像

1対1の写像でない例：

$f: \mathbb{R} \rightarrow \mathbb{R}$  の写像 (関数)

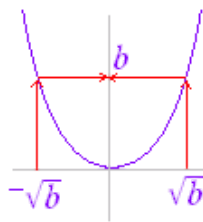
$$f(x)=x^2$$

については、 $b>0$  については、 $a^2=b$  となる  $a$  は、

$$a=\pm\sqrt{b}$$

となって、2つ存在する。(1つに定まらない。)

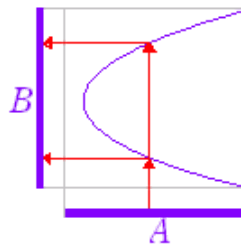
そこで、この写像 (関数)  $f(x)=x^2$  は1対1の写像 (関数) ではない。



問

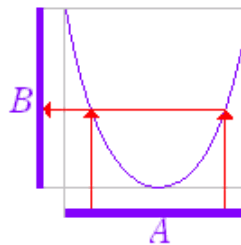
次のグラフによって、集合  $A$  の要素に集合  $B$  の要素を対応させるとき、この対応は次のうちどれに該当するか。（正しい選択肢をクリックせよ）（なお、例えば、「1対1の上への写像」の場合、「写像」にも「1対1の写像」にも、「上への写像」にも該当するが、最も狭い範囲で「上への1対1の写像」と答えるものとする。他も同様。）

(1)



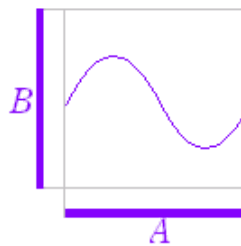
- 写像でない     写像     1対1の写像  
 上への写像     上への1対1の写像

(2)



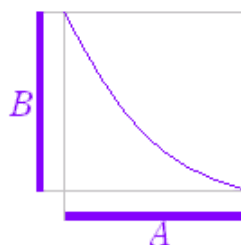
- 写像でない     写像     1対1の写像  
 上への写像     上への1対1の写像

(3)



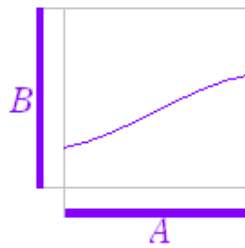
- 写像でない     写像     1対1の写像  
 上への写像     上への1対1の写像

(4)



- 写像でない     写像     1対1の写像  
 上への写像     上への1対1の写像

(5)



- 写像でない     写像     1対1の写像  
 上への写像     上への1対1の写像

## ◇ 1変数関数と多変数関数 ◇

独立変数が1個の関数を1変数関数という。

1変数の関数は、1つの独立変数 $x$ の値に対して従属変数 $y$ の値が決まり、 $y=f(x)$ の形式にまとめることができる。

1変数の関数では、上に述べた1次関数、2次関数の他、指数関数、対数関数、三角関数などが自然現象、社会現象を研究する上でよく登場する。

### 1. 指数の爆発

#### (小話1)

日本の国内法では極端な高利貸しは、法律で禁止されているが、闇世界では窮状に乗じて暴利をむさぼる者がいるとされている。トイチとは10日で1割の利息を取る闇の高利貸しを言う。そこで、このトイチからある日1円を借りたとき、10年後に何円の借金となっているか試算してみると：

$$10\text{日後} = 1 + 0.1 = 1.1\text{円}$$

$$20\text{日後} = 1.1 + 1.1 \times 0.1 = 1.21 = 1.1^2\text{円}$$

$$30\text{日後} = 1.21 + 1.21 \times 0.1 = 1.331 = 1.1^3\text{円}$$

...

$$100\text{日後} = 1.1^{10} = 2.593\text{円}$$

...

$$500\text{日後} = 1.1^{50} = 117.39\text{円}$$

...

$$1000\text{日後} 1.1^{100} = 13780.6\text{円}$$

...

10年後=3650日後=1,283,305,580,313,380=1283兆円となり、日本の国家予算の何年分も必要となる。

( $\log_{10} 1.1^{365} = 15.1$ となって16桁の数となることが、確かめられる。)

[\(\\*桁数の求め方↓\)](#)

#### (小話2)

豊臣秀吉の時代に「曾呂利新左衛門」という人がいて、あるとき、秀吉から何でもほしいものをもらえることになった。そこで新左衛門は100畳の畳を示して、1日目には1つの畳に1粒の米を、次の日には隣の畳に2粒の、さらに次の日にはその隣の畳に4粒の米を、...というように2倍ずつ米粒を置いてもらえばこれをいただきますと言ったという。

初めは少なく見えるが、 $1+2+2^2+2^3+\dots+2^{99}=2^{100}-1$ 個の米粒は、途方もなく多い。2を100乗もすると日常生活で使わないような桁外れの数字ができてしまう。

1粒の米が $0.02\text{g} = 0.00002\text{kg} = 0.00000002\text{t}$ とすると、

$0.00000002 \times (2^{100} - 1)$

ここで  $2^{10} = 1024 \approx 1000$ ,  $2^{100} = (2^{10})^{10} = (10^3)^{10} = 10^{30}$

として概算すると, 少なめに見積もって  $2 \times 10^$

$8 \times 10^{30} = 2 \times 10^{22} t$

今日の生産力でも世界全体で米の生産高は, 年間約6億=60000 0000 tと言われており, はるかに及ばない. (右上に続く→)

(→続き)

問

(小話2)において, 畳50畳であれば秀吉は合計何トンの米を渡さなければならなかったか. 米1粒を0.02gとして概算で示せ. Check

(小話3)

幼い子には知り合いが少なく, 有名な政治家には知り合いが多いが, ここでは誰でも100人の知り合いがいるものとする. また簡単にするために, 知り合いを友達と言い換える. このとき, 世界中どの2人をとっても, どちらか一方から, 友達の友達の友達を選び, 他方からも, 友達の友達を選べば, 同じ人になることを示すことができる.

すなわち, ある人の友達は100人あり, こちらから3回, 先方から2回考えると, 合計5ステップある. これは, こちらから100倍ずつの5ステップを考えても同じだから, 合計  $100^5 = 100\ 0000\ 0000 = 100$ 億人に及ぶ.

ところが世界の人口は約66億人といわれており, 100億もあれば世界の人口をカバーできるので5ステップあれば世界中の誰とでもつながる.

(もちろん, 6人家族で閉じているような短いルートもあるが, 遠方に到達する長いルートが少なくとも1つは存在するという意味である. ただし, 重なりは無視する.)

そこで, 一方の端を自分として, 他方の端を「アメリカ大統領」としても, また「ローマ法王」としても, 友達の友達の友達は, 友達の友達だと言っても, 相手が同時代の人なら, ほら吹きとはならない.

(小話4)

マラカイトグリーンと呼ばれる緑色の薬品は, 主に観賞魚の皮膚病の治療に用いられるが, 食用魚に用いることは禁止されている.

さて, この薬品は原液を25万倍に薄めて用いることになっている. では, どのようにして25万倍に薄めるか. …まず, 1mLの原液に水を加えて500mLにすると, これで500倍に薄まる. 次に, そのできた液のうち1mLだけを取り出して, これに水を加えて500mLにすると, 2回の操作で  $500 \times 500 = 250000$ となり, 500mLのビーカーと1mLの小さじがあれば25万倍に薄めることができる.

問

食塩58gの中には,  $6 \times 10^{23}$ 個の塩化ナトリウムの分子が含まれる. 食塩58gを500mLの水に溶かしたものを食塩水の原液とするとき, (小話4)の要領で薄めていき, 塩化ナトリウムの分子がちょうど1個含まれる液体を作るには, 何回薄めればよいか. (実際には, 薄めるのに用いる水[それ

自体が全く塩分を含まない水] を入手することは難しく、よくかき回して均一な濃度にするのも難しいが、ここでは理屈通りに実験が進むものとして試算してみよ。) Check

## 2. 自然対数の底, 指数関数, 対数関数

### (1)

次の極限值により自然対数の底  $e$  を定義する.

$$\lim_{n \rightarrow \infty} \left(1 + \frac{1}{n}\right)^n = e \quad (n \text{ は整数})$$

(この極限值は約 2.71828...)

このとき, 次の性質が成り立つ.

$$1) \quad \lim_{n \rightarrow \infty} \left(1 - \frac{1}{n}\right)^{-n} = e \quad (n \text{ は整数})$$

$$2) \quad \lim_{x \rightarrow 0} (1+x)^{\frac{1}{x}} = e \quad (x \text{ は実数})$$

$$3) \quad \lim_{h \rightarrow 0} \frac{\log(1+h)}{h} = 1 \quad (h \text{ は実数, 底は } e)$$

$$4) \quad \lim_{h \rightarrow 0} \frac{e^h - 1}{h} = 1 \quad (h \text{ は実数})$$



$$5) \quad y = e^x \rightarrow y' = e^x$$

$$6) \quad y = \log_e x \rightarrow y' = \frac{1}{x}$$

### (小話) なるべく有利に利息を得るには

以下のような条件で預金の利息を有利に得る方法を考える.

最近では同一銀行でも預金の出し入れに手数料が必要な場合もあるが, ここでは手数料は考えないものとする.

数字が小さいと分かりにくいので, ここでは年利率100%として, 1万円預ける場合を考える.

途中解約の場合は, 利息は預けた期間に比例して計算されるものとする.

単純に1年間預けた場合, 元金1万円+利息1万円で元利合計2万円となる.

しかし, 半年後に引き出した場合, 利息は半分になるので, 元金1万円+利息0.5×1万円で, 元利合計1.5万円となり, これをもう一度預け入れると, 残り半年間1.5万円を預けるので, 元金1.5万円+利息1.5×0.5万円, 元利合計は  $1.5 + 1.5 \times 0.5 = 1.5^2 = 2.25$ 万円となり, 単純に1年間預けたときと比べて有利になっている.

そこで, さらにもっと細かく出し入れすることにし, 4か月 (1/3年) ごとに出したり入れたりすると, 4か月目には  $1 + 1/3$ 万円出して直ちに預け, 8か月目には,  $(1 + 1/3) + (1 + 1/3) \times 1/3 = (1 + 1/3)^2$ 万円を出して直ちに預け直すと,



1年目には $(1+1/3)^3=2.37$ 万円となる。

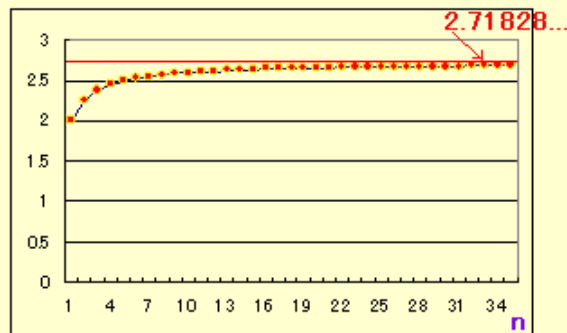
このようにして、入れたり出したりを小刻みに行うほど有利になるので、限りなく細かく財産管理を行い、1秒ごとに出し入れすることまで考えると、1万円の元金の運用で一財産稼げるかのように思われるが、果たしてどうなるか。

1年間を $n$ 等分して出し入れすることにすれば、1回について期間は $\frac{1}{n}$ 年なので元利合計が $1 + \frac{1}{n}$ 倍になることに注意すると、これを $n$ 回繰り返すことにより $(1 + \frac{1}{n})^n$ 倍となる。そこで、限りなく細かく分割して出し入れすると、

$$\lim_{n \rightarrow \infty} (1 + \frac{1}{n})^n = e$$

を求めることになる。

この式の値は、 $n$ が大きくなるにつれて増加する数列となっているが、 $n$ が大きくなってくると増え方が緩くなり、一定の値に収束する。この値が 2.71828... で記号  $e$  で表わされる。



(右上に続く→)

(→続き)

( $e$ の定義を用いた, 1)~6)証明)

1)← :

$$\begin{aligned} \lim_{n \rightarrow \infty} (1 - \frac{1}{n})^{-n} &= \lim_{n \rightarrow \infty} (\frac{n-1}{n})^{-n} \\ &= \lim_{n \rightarrow \infty} (\frac{n}{n-1})^n = \lim_{n \rightarrow \infty} (1 + \frac{1}{n-1})^n = e \end{aligned}$$

2)← :

左下のグラフのように $(1 + \frac{1}{x})^x$ は単調増加関数で、

$n$ を整数として、 $n \leq x$ のとき、

$$(1 + \frac{1}{n})^n \leq (1 + \frac{1}{x})^x \leq e$$

だから

$$\lim_{x \rightarrow \infty} (1 + \frac{1}{x})^x = e$$

がいえる。

1)から、同様にして

$$\lim_{x \rightarrow -\infty} (1 + \frac{1}{x})^x = e$$

がいえる。

そこで、 $\frac{1}{x} = t$ とおくと、

$$\lim_{x \rightarrow +0} (1+x)^{\frac{1}{x}} = \lim_{t \rightarrow +\infty} (1+\frac{1}{t})^t = e$$

$$\lim_{x \rightarrow -0} (1+x)^{\frac{1}{x}} = \lim_{t \rightarrow -\infty} (1+\frac{1}{t})^t = e$$

の両方がいえるから、2)が成り立つ。(右極限值と左極限值が存在してそれらが一致するとき、極限值はその一致した値となる。)

3)← : まず、対数関数はその定義域において連続なので、

$$\lim_{x \rightarrow a} f(x) = A$$

のとき,

$$\lim_{x \rightarrow a} \log f(x) = \log A$$

となることに注意する.

次に,

$$\begin{aligned} \lim_{h \rightarrow 0} \frac{\log(1+h)}{h} &= \lim_{h \rightarrow 0} \frac{1}{h} \log(1+h) \\ &= \lim_{h \rightarrow 0} \log(1+h)^{\frac{1}{h}} \end{aligned}$$

ここで2)により,

$$\lim_{h \rightarrow 0} (1+h)^{\frac{1}{h}} = e$$

であるから, 対数関数の連続性により

$$= \lim_{h \rightarrow 0} \log(1+h)^{\frac{1}{h}} = \log e = 1$$

4)← :

$$e^h - 1 = t$$

とおくと

$$\begin{aligned} e^h &= t + 1 \\ h &= \log(1+t) \quad (\text{底は } e) \end{aligned}$$

となる.

このとき,  $h \rightarrow 0$  ならば  $t \rightarrow 0$  だから ( $\because e^0 = 1$ )

$$\lim_{h \rightarrow 0} \frac{e^h - 1}{h} = \lim_{t \rightarrow 0} \frac{t}{\log(1+t)}$$

は3)により1となる.

5)← :

$$\lim_{h \rightarrow 0} \frac{e^{x+h} - e^x}{h} = e^x \lim_{h \rightarrow 0} \frac{e^h - 1}{h}$$

は4)により  $e^x$  となるから,

$$y = e^x \rightarrow y' = e^x \text{ が成り立つ.}$$

6)← :

$$\begin{aligned} \lim_{h \rightarrow 0} \frac{\log(x+h) - \log x}{h} &= \lim_{h \rightarrow 0} \frac{\log(1 + \frac{h}{x})}{h} \\ &= \lim_{h \rightarrow 0} \frac{\log(1 + \frac{h}{x})}{\frac{h}{x}} \cdot \frac{1}{x} = \frac{1}{x} \end{aligned}$$

問

次の極限值を求めよ。(選択肢から選べ.)

(1)  $\lim_{n \rightarrow \infty} (1 + \frac{1}{n})^{2n}$

$e$      $2e$      $\frac{1}{e}$      $e^2$      $\sqrt{e}$

(2)  $\lim_{n \rightarrow \infty} (1 - \frac{1}{n})^n$

$e$      $2e$      $\frac{1}{e}$      $e^2$      $\sqrt{e}$

(3)  $\lim_{n \rightarrow \infty} (1 + \frac{1}{2n})^n$

$e$      $2e$      $\frac{1}{e}$      $e^2$      $\sqrt{e}$

桁数の非常に大きな数はその全部を求めることが難しいときでも、桁数は10を底とする対数：常用対数で求めることができる。

常用対数については、次の性質が成り立つ。（解説→※）

$n \leq \log_{10} X < n+1$  のとき、 $X$ の整数部分は $n+1$ 桁である。

**例**

$\log_{10} X = 0.002$  なら  $X$  は 1 以上 10 未満の数となる。

$\log_{10} X = 1.502$  なら  $X$  は 10 以上 100 未満の数となる。

$\log_{10} X = 2.987$  なら  $X$  は 100 以上 1000 未満の数となる。

....

$\log_{10} X = 8.0123$  なら  $X$  は 1 億以上 10 億未満の数となる。

(※)

元の数 $X$	1	10	100	...	$10^{n-1}$	$10^n$
$\log_{10} X$	0	1	2	...	$n-1$	$n$
整数部分 の桁数	1	2	3	...	$n$	$n+1$

**例**

$\log_{10} 1000 = 3$  ,  $\log_{10} 10000 = 4$  だから、  
 $1000 \leq X < 10000$  ならば  $3 \leq \log_{10} X < 4$  となり、4桁の整数の常用対数の整数部分は3になる。

逆に、 $\log_{10} X$ が $n$ ならば元の数 $X$ は整数部分が $n+1$ 桁になる。

**例**

$2^{100}$ の桁数を求めるためには、その常用対数を計算すればよく、  
 $\log_{10} 2^{100} = 100 \log_{10} 2 = 100 \times 0.3010 = 30.1$   
 だから、 $2^{100}$ は31桁の整数だと分かる。

## (2) 指数計算

$p, q$  を有理数（正負の整数や分数）とするとき、次の**指数法則**が成り立つ。これを用いて、次の間に答えよ。

(1)  $a^p a^q = a^{p+q}$       (2)  $a^p \div a^q = a^{p-q}$

(3)  $(a^p)^q = a^{pq}$

(4)  $(ab)^p = a^p b^p$       (5)  $\left(\frac{a}{b}\right)^p = \frac{a^p}{b^p}$

※ 指数法則の基本については、[→このページ←] 参照

例

$3.5 \times 1.7 \div 2.3$  を有効数字2桁で計算すると2.6になる。このとき、  
 $(3.5 \times 10^5) \times (1.7 \times 10^{-3}) \div (2.3 \times 10^4)$   
 $= 2.6 \times 10^{5+(-3)-4}$   
 $= 2.6 \times 10^{-2}$  となる。

(参考) Microsoft Excelにおいて、(標準形式で) 数値が横幅に収まらないとき、  
大きな数:  $a.bcd \times 10^n$  は  $a.bcd E+n$   
小さな数:  $a.bcd \times 10^{-m}$  は  $a.bcd E -m$  と表示される。

問

(半角数字=1バイト文字で入力すること [以後の問題も同様])

(1)  $4.1 \times 1.5 \div 3.7$  を有効数字2桁で計算すると1.7になる。このとき、  
 $(4.1 \times 10^8) \times (1.5 \times 10^{-2}) \div (3.7 \times 10^3) = 1.7 \times 10^{\square}$   
である。

(2)  $1.1 \div 8.3 \div 5.1$  は約0.026になる。このとき、  
 $(1.1 \times 10^{-2}) \div (8.3 \times 10^6) \div (5.1 \times 10^7)$   
 $= 0.026 \times 10^{\square} = 2.6 \times 10^{\square}$  である。

(3)  $\frac{3.3^2 \times 6.3}{5.7}$  は約12である。

$a=3.3 \times 10^5, b=5.7 \times 10^{-5}, c=6.3 \times 10^{-8}$  のとき、

$\frac{a^2c}{b} = 12 \times 10^{\square} = 1.2 \times 10^{\square}$  である。

Check Reset

### (3) 対数計算

底  $a > 0, a \neq 1$ , 真数  $> 0$  のとき、対数は次の性質を満たす。計算に当たっては、(3)~(6)で変形し、(1)(2)に持ち込むとよい。

(1)  $\log_a 1 = 0$       (2)  $\log_a a = 1$

(3)  $\log_a MN = \log_a M + \log_a N$

(4)  $\log_a \frac{M}{N} = \log_a M - \log_a N$

(5)  $\log_a M^n = n \log_a M$

(6)  $\log_a b = \frac{\log_c b}{\log_c a}$

例

$\log_{10} 2 = 0.3010, \log_{10} 3 = 0.4771$  のとき、

$$\log_{10}5 = \log_{10}10 - \log_{10}2 = 0.6990$$

$$\log_{10}15 = \log_{10}5 + \log_{10}3 = 0.6990 + 0.4771 = 1.1761$$

問

$\log_{10}2 = 0.3010$ ,  $\log_{10}3 = 0.4771$  のとき, 次の値を求めよ.

(1)  $\log_{10}2^{1000} = \square \log_{10}2 = \square$

(2)  $\log_{10}480 = \log_{10}(2^4 \times 3 \times 10)$

$= 4\log_{10}2 + \log_{10}3 + \log_{10}10 = \square$

次の空欄を埋めよ. (値までは求めなくてよい.)

(3)  $\log_{10}\left(\frac{1}{30}\right)^{20} = \square (1 + \log_{10}3)$

(4)

$$\log_{0.2}300 = \frac{\square + \log_{10}3}{\square + \log_{10}2}$$

Check Reset

### 3. 三角関数

三角関数の性質については, 高校以来さまざまな側面から学んでいるが, ここでは「周期, 振幅」「偶関数, 奇関数」「第2次導関数の特徴」について, 補足説明する.

#### (1) 周期, 振幅

$y = \sin x$  のグラフは右図のようになる. 山の高さ (正の値) を **振幅** といい, 山から山 (または谷から谷) までの長さを **周期** という.

一般に, 任意の  $x$  について,

$$f(x+p) = f(x)$$

が成り立つとき,  $f(x)$  は周期  $p$  の **周期関数** であるという.

$f(x+p) = f(x)$  が成り立つ最小の正の数  $p$  を **基本周期** という. (基本周期のことを単に周期ということがある.)

基本周期  $p$  の任意の整数倍  $np$  ( $n$  は整数) は周期となる.

$$\because f(x+p) = f(x) \rightarrow f(x+2p) = f((x+p)+p) = f(x+p) = f(x)$$

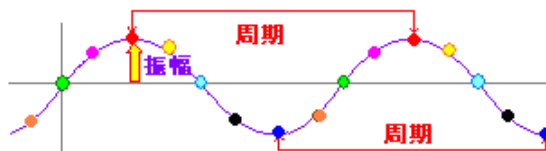
同様に,  $f(x+3p) = f(x)$  などが示され, 一般に

$$f(x+np) = f(x)$$

が成り立つ.

$$f((x-p)+p) = f(x-p) \text{ となるから, } f(x) = f(x-p)$$

一般に,  $f(x) = f(x-np)$  も成り立つ.



○  $y = \sin x$  の基本周期は  $2\pi$  である.

$$\rightarrow \sin(x+2\pi) = \sin x$$

$$\rightarrow \sin(x+4\pi) = \sin x$$

$$\rightarrow \sin(x+6\pi) = \sin x$$

...

$$\rightarrow \sin(x+2n\pi) = \sin x \text{ が成り立つ.}$$

○  $y = \cos x$  の基本周期も  $2\pi$  である.

$$\rightarrow \cos(x+2\pi) = \cos x$$

...

$$\rightarrow \cos(x+2n\pi) = \cos x \text{ が成り立つ.}$$

○  $y = \tan x$  のグラフには山や谷はないが、同じ形が繰り返される最小の正の数は  $\pi$  で、周期は  $\pi$  となる.

$$y = \sin nx, y = \cos nx \text{ の (基本) 周期は, } \frac{2\pi}{n}$$

$$y = \tan nx \text{ の (基本) 周期は, } \frac{\pi}{n}$$

∴  $\sin(n(x+p)) = \sin nx$  すなわち  $\sin(nx+np) = \sin nx$

となる最小の正の数  $p$  を求めると、 $np = 2\pi$  より、 $p = \frac{2\pi}{n}$

$y = \cos nx, y = \tan nx$  についても同様.

○

$$y = \sin 2x \text{ の周期は } \pi,$$

$$y = \sin 3x \text{ の周期は } \frac{2\pi}{3},$$

$$y = \sin 4x \text{ の周期は } \frac{\pi}{2}, \dots$$

のように  $n$  を大きくすると、周期は短くなることに注意.

逆に、

$$y = \sin \frac{x}{2} \text{ の周期は } 4\pi,$$

$$y = \sin \frac{x}{3} \text{ の周期は } 6\pi,$$

$$y = \sin \frac{x}{4} \text{ の周期は } 8\pi, \dots$$

のように  $n$  を小さくすると、周期は長くなることに注意.

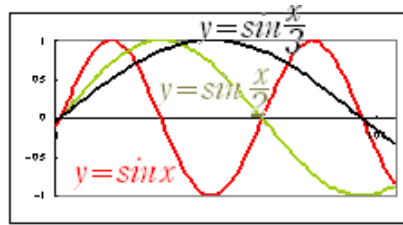
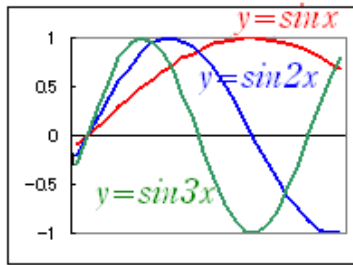
※ いろいろな周期の三角関数の和として作られる関数は、繰り返し模様となる。右の2つの図は各々  $y = \sin x + \sin 10x$ ,  $y = \sin x + \sin 5x + \sin 25x$  のグラフで、短い周期と長い周期が組み合わせられていることが分かる。

逆に、繰り返し模様となっているグラフは、

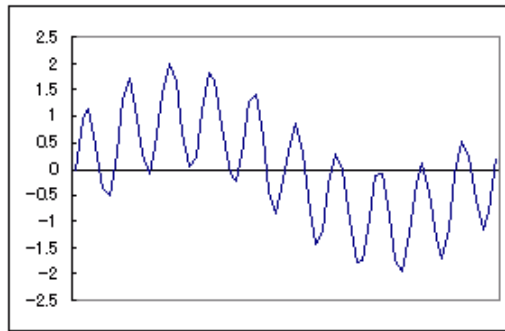
$$y = a + b\sin x + c\sin 2x + d\sin 3x + \dots$$

の形で近似することができる。(  $y = a + b\cos x + c\cos 2x + \dots$  でもよい. )

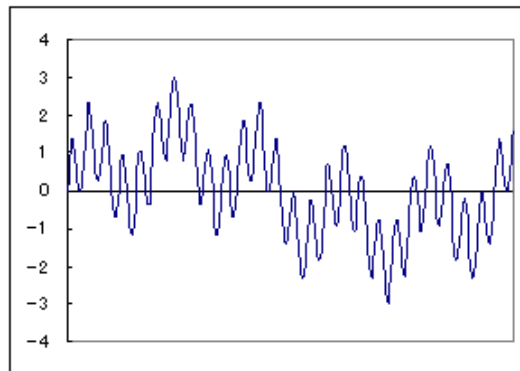
細かな模様を再現するには、多くの係数  $a, b, c, \dots$  を要するが、そこそこの精度で再現するには少ない個数の係数  $a, b, c, \dots$  でよい。(JPEG画像の圧縮比(画質)は、この係数を幾つ使うかということに関係している.)



☒



☒



例

右図のような立体で鼻を通る断面（赤で示した線）を三角関数の1次結合（定数倍とそれらの和）で近似することを考える。

（ $0 \leq x \leq 2\pi$  の区間で  $x$  の関数として表わす。）

右図下において、赤で示した曲線は

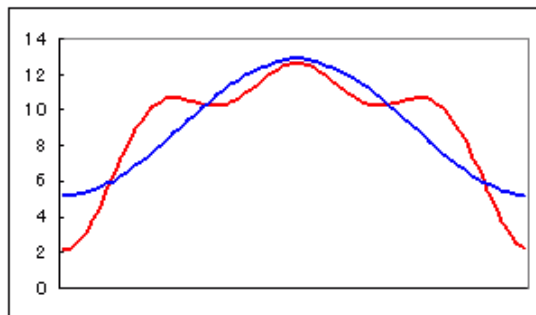
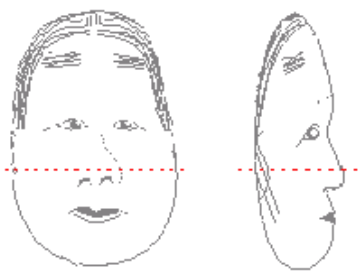
$$y = 18.03 - 3.8 \cos x - 1.6 \cos 2x - 1.5 \cos 3x$$

の関数のグラフで、係数の大きさ（振幅）で比較すると  $\cos x$  の影響が最も大きいことが分かる。

青で示した曲線は、定数項と  $y = \cos x$  だけで近似したときのグラフ

$$y = 18.03 - 3.8 \cos x$$

で、この断面のおおまかな特徴が捉えられている。



## (2) 偶関数, 奇関数

1) 任意の $x$ について

$f(-x)=f(x)$  が成立する関数 $f(x)$  は偶関数と呼ばれ,  
 $y=f(x)$  のグラフは $y$  軸に関して対称となる.

2) 任意の $x$ について

$f(-x)=-f(x)$  が成立する関数 $f(x)$  は奇関数と呼ばれ,  
 $y=f(x)$  のグラフは原点に関して対称となる.

右のグラフから, 次のことが分かる.

- $\sin(-x)=-\sin x$  が成り立つから  $\sin x$  は奇関数で,  
 $y=\sin x$  のグラフは原点に関して対称となる.
- $\cos(-x)=\cos x$  が成り立つから  $\cos x$  は偶関数で,  
 $y=\cos x$  のグラフは $y$  軸に関して対称となる.
- $\tan(-x)=-\tan x$  が成り立つから  $\tan x$  は奇関数で,  
 $y=\tan x$  のグラフは原点に関して対称となる.

ア) **整数の積に関する性質は異なり**, 次の性質が成り立つ:

奇関数 $\times$ 奇関数=偶関数

奇関数 $\times$ 偶関数=奇関数

偶関数 $\times$ 偶関数=偶関数

イ) 任意の関数 $f(x)$  は, 奇関数と偶関数の和で表わすことができる.

(証明)

ア)

$f(x), g(x)$  を奇関数とすると,  $f(-x)=-f(x), g(-x)=-g(x)$  が成り立つ.

このとき,  $p(x)=f(x)g(x)$  で定義される関数は,

$h(-x)=f(-x)g(-x)=-f(x)\{-g(x)\}=f(x)g(x)=p(x)$  となるから,  $p(x)$  は偶関数となる.

$f(x)$  が奇関数,  $g(x)$  が偶関数のとき,  $f(-x)=-f(x),$

$g(-x)=g(x)$  だから,  $q(x)=f(x)g(x)$  で定義される関数は,

$q(-x)=f(-x)g(-x)=-f(x)\{g(x)\}=-f(x)g(x)=-q(x)$  となるから,  $q(x)$  は奇関数となる.

イ)

任意の関数 $f(x)$  に対して



$$s(x) = \frac{f(x) + f(-x)}{2}$$

で定義される関数  $s(x)$  は

$$s(-x) = \frac{f(-x) + f(x)}{2} = f(x)$$

であるから偶関数となる。また、

$$t(x) = \frac{f(x) - f(-x)}{2}$$

で定義される関数  $t(x)$  は

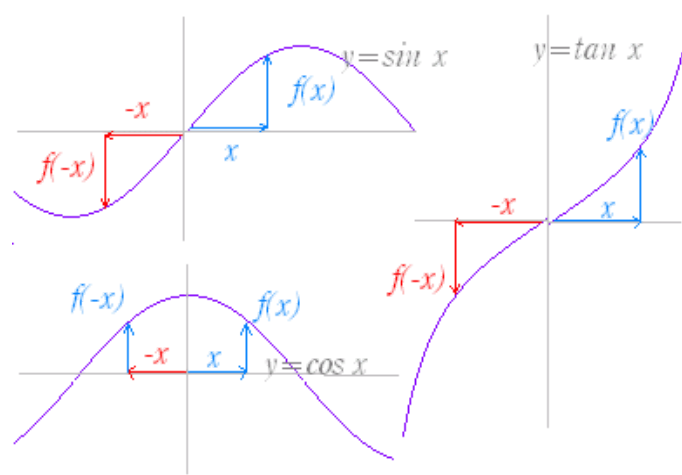
$$t(-x) = \frac{f(-x) - f(x)}{2} = -t(x)$$

であるから奇関数となる。

ここで、

$$f(x) = s(x) + t(x)$$

だから、任意の関数は偶関数と奇関数の和で表わされる。



### 問

次の関数が偶関数か奇関数か述べよ。

$$f(x) = \sin x \cos x$$

- 偶関数     奇関数     どちらでもない

$$g(x) = 1 + x^2$$

- 偶関数     奇関数     どちらでもない

$$h(x) = x + x^3 + x^5$$

- 偶関数     奇関数     どちらでもない

$$p(x) = x + |x|$$

- 偶関数     奇関数     どちらでもない

$$q(x) = \sin x + 2\cos x$$

- 偶関数     奇関数     どちらでもない

$$r(x) = \sin(\cos x)$$

- 偶関数     奇関数     どちらでもない

### 問

次の関数を偶関数と奇関数の和として表せ。 )

**Check**

$$s(x) = (x + \cos x)(1 + \tan x)$$

(参考)

ア) で示した、奇×奇=偶、奇×偶=奇、偶×偶=偶の性質は、次の変形から分かるように、指数の和に関する性質に対応している。

$$\text{奇} \times \text{奇} : x^{\text{奇数}} \times x^{\text{奇数}} = x^{\text{奇数} + \text{奇数}} = x^{\text{偶数}}$$

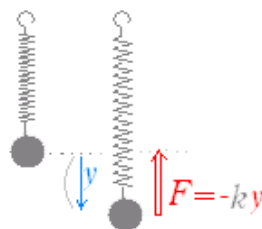
奇×偶 :  $x^{\text{奇数}} \times x^{\text{偶数}} = x^{\text{奇数+偶数}} = x^{\text{奇数}}$   
 偶×偶 :  $x^{\text{偶数}} \times x^{\text{偶数}} = x^{\text{偶数+偶数}} = x^{\text{偶数}}$

### (3) 第2次導関数の特徴

$(\sin x)' = \cos x$   $(\cos x)' = -\sin x$   
 となるから,  $(\sin x)'' = -\sin x$  が成り立つ.  
 同様に  $(\cos x)'' = -\cos x$  が成り立つ.  
 そこで,  $y = \sin x, y = \cos x$  は  $y'' = -y$  という2階微分方程式の解となっていることが分かる.

また,  $(\sin kx)' = k \cos kx$   $(k \cos kx)' = -k^2 \sin kx$   
 となるから,  $(\sin kx)'' = -k^2 \sin kx$  が成り立つ.  
 同様に  $(\cos kx)'' = -k^2 \cos kx$  が成り立つ.  
 そこで,  $y = \sin kx, y = \cos kx$  は  $y'' = -k^2 y$  という2階微分方程式の解となっていることが分かる.

一般に, 単振動のように「変位に比例する逆向きの力が働く」運動では, 方程式の解として三角関数 ( $\sin kt, \cos kt$  など) が登場する.



$$-ky = m \frac{d^2 y}{dt^2}$$

$$\frac{d^2 y}{dt^2} = -\frac{k}{m} y$$

= =>  $y = \sin \sqrt{\frac{k}{m}} t$

バネ定数  $k$ , 質量  $m$  の単振動の周期は,

$$2\pi \div \sqrt{\frac{k}{m}} = 2\pi \sqrt{\frac{m}{k}}$$

となる. ( $k$  が大きいほど速く,  $m$  が大きいほど遅くなる.)

## ◇多変数関数の例◇

多変数関数の例として, 以下において2変数関数について説明する.

### 1. 2変数の1次関数

○ リンゴ  $x$  個とミカン  $y$  個を買って箱につめてもらう場合, その価格は,

$$z = f(x, y) = ax + by + c$$

で表わすことができる. ここで,  $a$  はリンゴの単価,  $b$  はミカンの単価,  $c$  は箱の価格である.

○ もっと多くの品物を買うような一般の買い物や実際の社会活動では,  $n$  個の変数  $x_1, x_2, x_3, \dots, x_n$  を用いて,

$$z = f(x_1, x_2, \dots, x_n)$$

$$= \sum_{j=1}^n a_j x_j + b$$

と表せるものが多い。

○  $z=ax+by+c$  のように独立変数  $x, y$  の 1 次式で従属変数  $z$  が表わされる図形は 3 次元空間における平面になる。

右の図は  $xyz$  空間における平面  $z=ax+by+c$  の概形を描いたものである。(実際にはこの平面は無限に広がっているが、見やすくするために  $x, y, z > 0$  の部分を図示している。)

ア)  $x=y=0$  を代入すれば  $z=c$  となることから、この平面と  $z$  軸との交点の座標は、 $(0, 0, c)$  になることが分かる。

イ) 一般に、座標軸 ( $x$  軸,  $y$  軸,  $z$  軸) に垂直な平面の方程式は各々  $x=k, y=l, z=m$  の形で表わされ、これらの平面は座標軸によって垂直に串刺しされたような形になっている。

ウ)  $z=ax+by+c$  を  $x$  軸に垂直な平面  $x=k$  で切った切り口の方程式は、 $z=ak+by+c=by+(ak+c)$  となり、独立変数  $y$  の 1 次関数である直線となる。

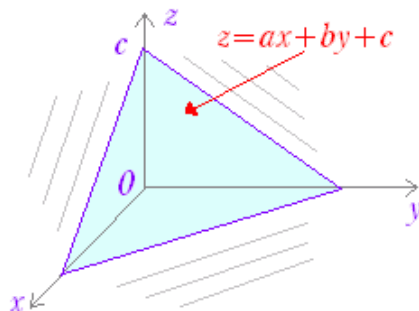
(直線  $z=by+(ak+c)$  における直線の傾き  $b$  は上の例ではミカンの単価となっている。)

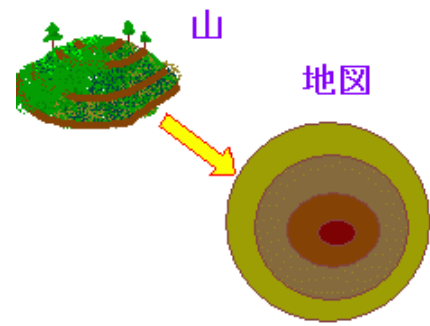
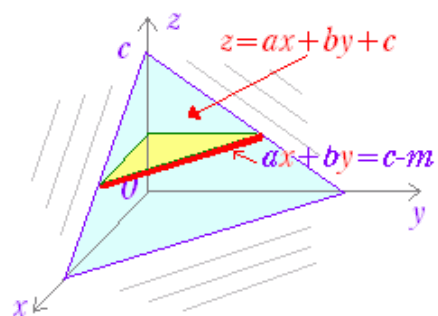
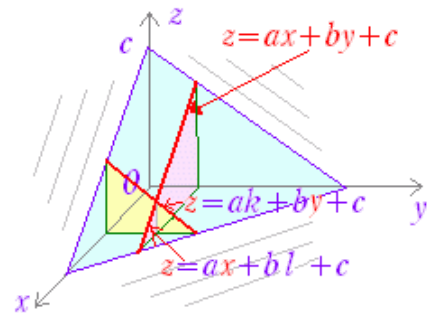
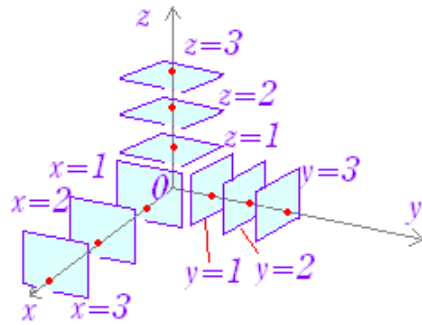
同様に、 $z=ax+by+c$  を  $y$  軸に垂直な平面  $y=l$  で切った切り口の方程式は、 $z=ax+bl+c=ax+(bl+c)$  となり、独立変数  $x$  の 1 次関数である直線となる。

(直線  $z=ax+(bl+c)$  における直線の傾き  $a$  は上の例ではリンゴの単価となっている。)

$z=ax+by+c$  を  $z$  軸に垂直な平面  $z=m$  で切った切り口の方程式は、 $m=ax+by+c \rightarrow ax+by=c-m$  となる。この形で作られた図は「等高線」と呼ばれ、立体を図示するときによく用いられる。

※ 医療分野での、CT や MRI による断層画像は、幾つもの切り口を用いて立体全体を視覚化している。

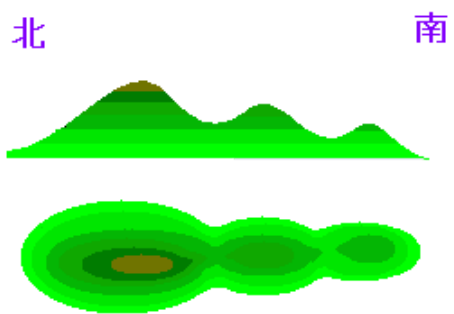




**問**  
 京都市右京区には双岡（ならびがおか）と呼ばれる小高い丘があって、ここには徒然草の作者 吉田兼好の庵があったと言われている。  
 この丘は、西から見ると右図上のように北の丘が少し高い。また、上から見ると右図下のような形をしている。  
 この山の立体構造を説明するために、東西に $x$ 軸、南北に $y$ 軸を選び、 $z$ 軸を高さとして、 $xyz$ 軸に垂直な断層画像各々数個を用いてこの山の形を説明せよ。



西側から見た遠景



## 2. 2変数の2次関数

2変数の2次関数は、一般に

$$z=ax^2+2hxy+by^2+px+qy+r$$

の形で書かれるが、標準化と呼ばれる変形により、次のいずれかの形に直すことができる。

(1)  $z=Ax^2+By^2$  ( $A>0, B>0$ )

下に凸の楕円放物面と呼ばれる(右図)

※ 右の図1は  $-1 \leq x \leq 1, -1 \leq y \leq 1$  の区間において、 $z=x^2+y^2$  の曲面をExcelグラフを用いて等高線表示したものである。(着色は初期設定から変えてある。)

(2)  $z=-Ax^2-By^2$  ( $A>0, B>0$ )

上に凸の楕円放物面と呼ばれる(右図)

※ 右の図2は  $-1 \leq x \leq 1, -1 \leq y \leq 1$  の区間において、 $z=-x^2-y^2$  の曲面をExcelグラフを用いて等高線表示したものである。(着色は初期設定から変えてある。)

(3)  $z=Ax^2-By^2$  または、 $z=-Ax^2+By^2$  ( $A>0, B>0$ )

双曲放物面と呼ばれる(右図)

※ 右の図3は  $-1 \leq x \leq 1, -1 \leq y \leq 1$  の区間において、 $z=x^2-y^2$  の曲面をExcelグラフを用いて等高線表示したものである。(着色は初期設定から変えてある。)

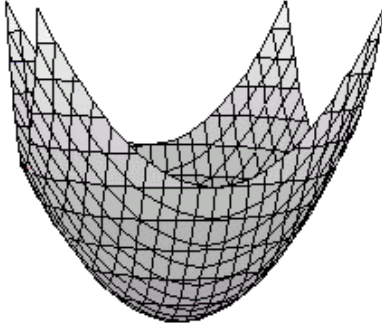
### 問

Excelグラフを用いて、図3の  $z=x^2-y^2$  の曲面を描画してみよ。

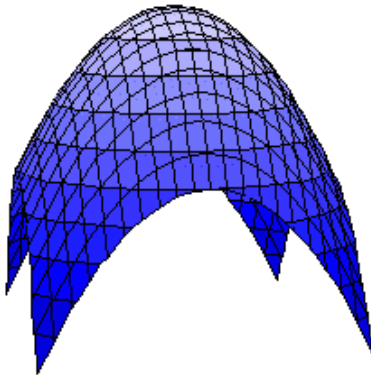
#### [手順の概略]

- $x^2$  や  $y^2$  は  $-1 \leq x \leq 1, -1 \leq y \leq 1$  の外側では急速に大きくなるので、データは  $-1 \leq x \leq 1, -1 \leq y \leq 1$  程度にする方が見やすい。
  - A列に  $-1, -0.9, -0.8, \dots, 1.0$  を、1行目に  $-1, -0.9, -0.8, \dots, 1.0$  を入力し、セルB2に  
**= $\$A1^2-B\$1^2$**
- などと計算式を書き込み、B2:V22までコピー・ペーストする。
- 分割を増やしすぎると枠線が増えすぎて、全体に黒々としてくるので、縦横10~20分割程度が見やすい。
  - B2:V22を選択・反転表示し(元の座標は含めず、計算で得られたz座標のみを選ぶ)、グラフウィザード→色分け表示する方の等高線を選べば陰線処理(向こう側の図形が見えないようにするもの)したものが表示される。
  - 20×20個のxy座標の組により右図の格子が形成される。(x座標が等しい点を結んだ線、y座標が等しい点を結んだ線が表示され、これに、等高線:z座標が等しい点を結んだ線が追加されている。)
  - グラフを右クリックし、3Dグラフを選択、仰角、奥行き、回転を調整して見やすい位置を探す。

図1



☒2



☒3

