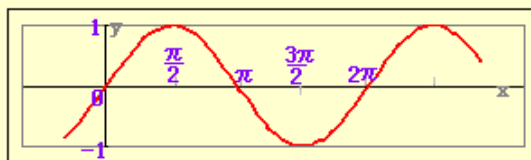


== 三角関数(3) ==

○ 三角関数のグラフと最大, 最小

(1) $y = \sin x$ のグラフは, 表1により, 点をなめらかに結べば得られる.

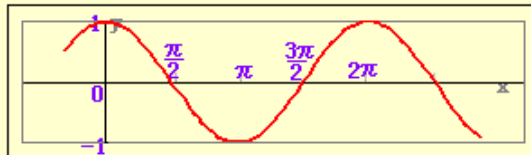


特に, 「原点を通ること」「 $-1 \leq \sin x \leq 1$ となること」が重要である.

表1

x	...	0	$\frac{\pi}{6}$	$\frac{\pi}{4}$	$\frac{\pi}{3}$	$\frac{\pi}{2}$	$\frac{2\pi}{3}$	$\frac{3\pi}{4}$	$\frac{5\pi}{6}$	π	$\frac{7\pi}{6}$...
$\sin x$...	0	$\frac{1}{2}$	$\frac{1}{\sqrt{2}}$	$\frac{\sqrt{3}}{2}$	1	$\frac{\sqrt{3}}{2}$	$\frac{1}{\sqrt{2}}$	$\frac{1}{2}$	0	$-\frac{1}{2}$...

(2) $y = \cos x$ のグラフも同様にして, 表2により, 点をなめらかに結べば得られる.



特に, 「 $x=0$ のとき $y=1$ になること」「 $-1 \leq \cos x \leq 1$ となること」が重要である.

表2

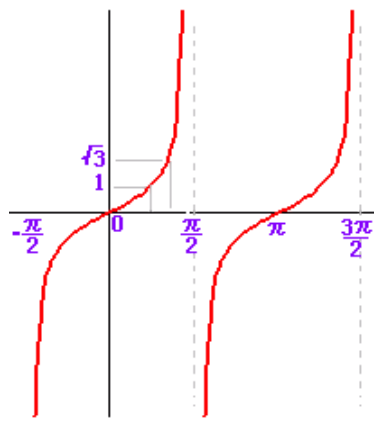
x	...	0	$\frac{\pi}{6}$	$\frac{\pi}{4}$	$\frac{\pi}{3}$	$\frac{\pi}{2}$	$\frac{2\pi}{3}$	$\frac{3\pi}{4}$	$\frac{5\pi}{6}$	π	$\frac{7\pi}{6}$...
$\cos x$...	1	$\frac{\sqrt{3}}{2}$	$\frac{1}{\sqrt{2}}$	$\frac{1}{2}$	0	$-\frac{1}{2}$	$-\frac{1}{\sqrt{2}}$	$-\frac{\sqrt{3}}{2}$	-1	$-\frac{\sqrt{3}}{2}$...

(3) $y = \tan x$ のグラフも同様であるが, このグラフは他の2つと全く異なり, 取り得る値の範囲が

$$-\infty < \tan x < \infty$$

となるところが特徴.

特に, $-\frac{\pi}{2} < x < \frac{\pi}{2}$ の区間だけで, y は全実数値を取る.



例と答

(1) $y=2 \sin x+3$ ($-\frac{\pi}{2} \leq x \leq \frac{\pi}{2}$) の最大値, 最小値を求めよ.

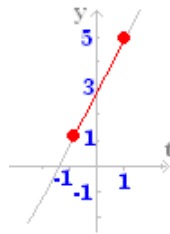
(答案)

$t=\sin x$ とおくと,

$y=2t+3$ ($-1 \leq t \leq 1$)

$t=-1$ ($x=-\frac{\pi}{2}$) のとき最小値 1 をとる.

$t=1$ ($x=\frac{\pi}{2}$) のとき最大値 5 をとる.



(2) $y=\cos^2 x-2 \cos x$ ($0 \leq x \leq \pi$) の最大値, 最小値を求めよ.

(答案)

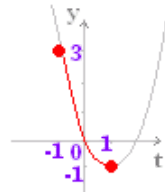
$t=\cos x$ とおくと,

$y=t^2-2t$ ($-1 \leq t \leq 1$)

$y=(t-1)^2-1$ だから

$t=-1$ ($x=\pi$) のとき最大値 3 をとる.

$t=1$ ($x=0$) のとき最小値 -1 をとる.



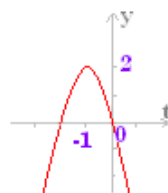
(3) $y=-2 \tan^2 x-4 \tan x$ ($-\frac{\pi}{2} \leq x \leq \frac{\pi}{2}$) の最大値, 最小値を求めよ.

(答案)

$t=\tan x$ とおくと,

$y=-2t^2-4t$ ($-\infty < t < \infty$)

$y=-2(t+1)^2+2$ だから



最小値 なし

$t=-1$ ($x=-\frac{\pi}{4}$) のとき最大値 2 をとる.



■即答問題■

次の関数の最大値，最小値を求めよ。ないときは，「
* 」と書け。（最大値，最小値を与える x の値は省略してよい。）

(1) $y = -3 \sin x + 5 \quad \left(-\frac{\pi}{2} \leq x \leq \frac{\pi}{2}\right)$

最大値

最小値

(2) $y = \cos^2 x + 4 \cos x + 3 \quad (0 \leq x \leq \pi)$

最大値

最小値

(3) $y = 4 \tan^2 x - 4 \tan x \quad \left(-\frac{\pi}{2} \leq x \leq \frac{\pi}{2}\right)$

最大値

最小値



○ 三角関数の微分

[要点]

$$y = \sin x \rightarrow y' = \cos x \quad \cdots(1)$$

$$y = \cos x \rightarrow y' = -\sin x \quad \cdots(2)$$

$$y = \tan x \rightarrow y' = \frac{1}{\cos^2 x} \quad \cdots(3)$$

なお，上の結果に合成関数の微分法を組み合わせた，次の公式はよく登場する。

$$y = \sin kx \rightarrow y' = k \cos kx$$

$$y = \cos kx \rightarrow y' = -k \sin kx \quad \text{など}$$

(証明)

三角関数の微分（導関数）を求めるとき，右の極限值を利用する。

(1) ← :

$$y = \sin x \rightarrow y' = \lim_{h \rightarrow 0} \frac{\sin(x+h) - \sin x}{h}$$

$$= \lim_{h \rightarrow 0} \frac{2 \cos(x + \frac{h}{2}) \sin \frac{h}{2}}{\frac{h}{2}} = \lim_{h \rightarrow 0}$$

ここで、 $\cos(x + \frac{h}{2}) \rightarrow \cos x$, $\frac{\sin \frac{h}{2}}{\frac{h}{2}} \rightarrow 1$
 だから、 $y' = \cos x$

(2) ← : も同様にして示される.

(3) ← : $y = \tan x$ のとき

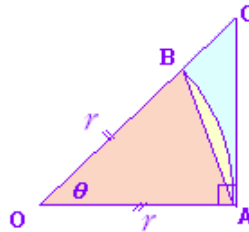
商の微分法により

$$y' = \frac{\cos x \cos x - \sin x(-\sin x)}{\cos^2 x} = \frac{1}{\cos^2 x}$$

(重要な極限值)

$$\lim_{\theta \rightarrow 0} \frac{\sin \theta}{\theta} = 1$$

この式は、通常、次のような図を用いて示される.



$\triangle OAB < \text{扇形} OAB < \triangle OAC$ だから

ア) $\theta > 0$ のとき

$$\frac{1}{2} r^2 \sin \theta < \frac{1}{2} r^2 \theta < \frac{1}{2} r^2 \tan \theta$$

$$0 < \sin \theta < \theta < \tan \theta$$

ら $0 < 1 < \frac{\theta}{\sin \theta} < \cos \theta \rightarrow 1$ ($\theta \rightarrow 0$ のとき) だか

$$\frac{\sin \theta}{\theta} \rightarrow 1 \text{ ($\theta \rightarrow 0$ のとき)}$$

イ) $\theta < 0$ のとき, $\theta = -t$ とおくと

$$\frac{\sin \theta}{\theta} = \frac{\sin(-t)}{(-t)} = \frac{\sin t}{t} \rightarrow 1 \text{ ($\theta \rightarrow 0$ のとき)}$$

ア) イ) より, $\lim_{\theta \rightarrow 0} \frac{\sin \theta}{\theta} = 1$

例と答

次の関数を微分せよ.

(1) $y = \sin 2x$

(答案) $y = \sin t$
 $t = 2x$

$$\frac{dy}{dx} = \frac{dy}{dt} \frac{dt}{dx} = \sin t \times 2 = 2 \sin 2x \cdots (\text{答})$$

(2) $y = \cos^2 x$

(答案) $y = t^2$
 $t = \cos x$

$$\frac{dy}{dx} = \frac{dy}{dt} \frac{dt}{dx} = 2t(-\sin x) = -2 \cos x \sin x \cdots (\text{答})$$

(3) $y = \tan(3x+2)$

(答案) $y = \tan t$

$$t = 3x+2$$

$$\frac{dy}{dx} = \frac{dy}{dt} \frac{dt}{dx} = \frac{1}{\cos^2 t} \times 3 = \frac{3}{\cos^2(3x+2)} \cdots (\text{答})$$



■ 即答問題 ■

次の関数を微分せよ。

(1) $y = \sin(-3x+2)$

$$y' = \square \cos(-3x+2)$$

Check Reset

(2) $y = \tan(2x-3)$

$$y' = \frac{\square}{\cos^2(-3x+2)}$$

Check Reset

(3) $y = \cos^3 4x$

$$y' = \square \sin 4x \cos^2 4x$$

Check Reset Help